

# 10

Na ZŠ v Lupanoch môže každý žiak chodiť na jeden z dvoch krúžkov – športový (ŠK), fotografický (FK). Andrej podľa tabuľky pre každú triedu vypočítal, koľko žiakov chodí na krúžky.

Trieda	Počet žiakov	Časť žiakov, ktorí navštevujú ŠK	Časť žiakov, ktorí navštevujú FK
5.A	30	dve tretiny	jedna pätina
5.B	24	tri štvrtiny	jedna šestina
5.C	20	dve pätiny	jedna štvrtina
5.D	36	jedna polovica	jedna tretina

V ktorých triedach určil počty žiakov zapojených do krúžkov správne?

- 1) 5.A – na krúžky chodí 26 žiakov
- 2) 5.B – na krúžky chodí 20 žiakov
- 3) 5.C – na krúžky chodí 13 žiakov
- 4) 5.D – na krúžky chodí 30 žiakov

# 11

Elenka správne vypočítala príklad na násobenie.

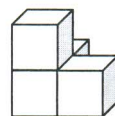
$$\begin{array}{r}
 5\ A \\
 \cdot B\ 3 \\
 \hline
 \begin{array}{cccc}
 \square & \square & \square & \square \\
 \square & \square & \square & \square \\
 \hline
 C\ D\ 5\ 1
 \end{array}
 \end{array}$$

Malá sestra jej niektoré číslice prelepila nálepkami. Ktoré tvrdenia sú pravdivé?

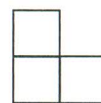
- 1) Na mieste označenom A je číslica 7.
- 2) Na mieste označenom B je číslica 6.
- 3) Na mieste označenom C je číslica 2.
- 4) Na mieste označenom D je číslica 4.

# 12

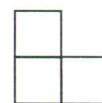
Stavba na obrázku 1 vyzerá pri pohľade zhora rovnako ako pri pohľade sprava.



obr. 1

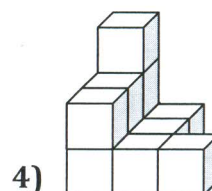
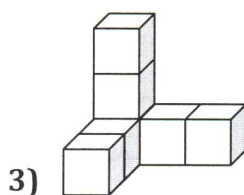
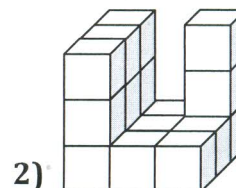
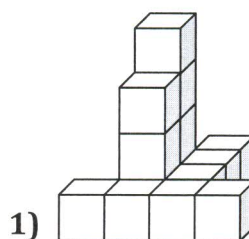


zhora



sprava

Ktoré z nasledujúcich stavieb vyzerajú pri pohľade zhora rovnako ako pri pohľade sprava?



# 13

Dana, Jana, Hana a Maja trénovali skok do výšky. Ktoré z nich prekonal latku vo výške jeden a pol metra?

- 1) Dana: 1 m 610 mm
- 2) Jana: 13 dm 80 mm
- 3) Hana: 1 510 mm
- 4) Maja: 1 m 4 dm 9 cm

